

برگ آزمون جامع ماهانه



آزمون‌های ماهانه بر مبنای جدول بودجه بندی

ارزشیابی نوبت اول و دوم

پاسخنامه آنلاین

دریافت پاسخنامه




کلاس:

دستان:

نام و نام خانوادگی:

فارسی (صفحه ۱۶-۱)



الف) درست یا نادرست را مشخص کن.

۱ نماینده ی هر گروه پیشنهادها را با صدای آرام خواند.

۲ دهمین نشانه ی از حروف الفبا (د) است.

۳ مسجد چراغانی شده بود.

۴ شعر « یارمهربان » سروده ی ناصر کشاورز است.

ب) پاسخ درست را علامت بزن.

۵ « ای » در پایان کدام کلمه به شکل درست آمده است؟

الف) سیاه ای ب) نوشته ای ج) گروه ای

۶ « و » در کلمه ی (خودمان) ، چه صدایی دارد؟

الف) واو ← صدای « او » واو ← صدای « و » واو ← صدای « ا »

۷ کدام کلمه از نظر املائی اشتباه است؟

الف) نظم ب) چراقانی ج) می خواستند

۸ کدام کلمه با ترکیب (هم) معنی درست می دهد؟

الف) هم کار ب) هم خودکار ج) هم کفش

ج) جاهای خالی را کامل کن.

۹ آموزگار کتاب به کلاس آورد. (قصه ای - قصه ی)

۱۰ به کسی که نظم داشته باشد می گویند. (بی نظم - بانظم)

۱۱ در کلمه ی « می خواهد » (واو) (صدای ا دارد - صدایی ندارد)

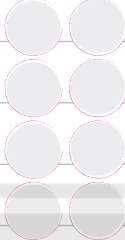
۱۲ نشانه ی جا افتاده در کلمه ی (سرف) است. (ت - ط)

کلاس:

دستان:

نام و نام خانوادگی:

ریاضی (صفحه ۴۱-۲۰)



الف) درست یا نادرست را مشخص کن.

- ۱ رقم صفر در دهگان و رقم ۶ در یکان عدد ۶۰ را می سازد.
- ۲ عدد ۴۶ تقریب آن ۵۰ می شود.
- ۳ در شمارش سه تا سه تا بعد از ۱۸ عدد بیست می باشد.
- ۴ عقربه ی کوچک روی ۹ و عقربه ی بزرگ روی ۳ ساعت ۱۵ : ۹ را نشان می دهد.

ب) پاسخ درست را علامت بزن.

- ۵ تقریب حاصل جمع $(۴۷ + ۱۶)$ کدام گزینه است.
- الف) ۶۰ ب) ۵۰ ج) ۷۰
- ۶ با سه کارت ۷ ۵ ۳ چند عدد دو رقمی می توان نوشت؟
- الف) ۶ ب) ۹ ج) ۱۲
- ۷ ۹ دسته ی ده تایی منهای ۳ دسته ی ده تایی می شود.
- الف) ۵ دسته ی ده تایی ب) ۶ دسته ی ده تایی ج) ۴ دسته ی ده تایی
- ۸ بزرگترین عدد دو رقمی منهای پنج چه عددی است؟
- الف) ۹۳ ب) ۹۱ ج) ۹۴

ج) جاهای خالی را کامل کن.

۹ + برابر است با
 (The grid shows 10 columns and 10 rows of small squares, totaling 100.)

۱۰ ۱۵ دقیقه بعد از ۴۵ : ۹ دقیقه ساعت می شود.

۱۱ اگر از عدد ۵۷ دو دسته ی ده تایی به عقب برگردیم عدد می شود (با استفاده از جدول ۱۰۰-۱)

۱۲ مربع و مثلث روی هم گوشه دارند.


د) پاسخ کوتاه بده .

۱۳ دو صدا که باعث آلودگی صوتی می‌شوند را نام ببر؟

۱۴ با فوت کردن در چه صدایی تولید می‌شود؟



۱۵ بزرگترین چشمه ی نور را بکش.



۱۶ سایه‌ی چگونه است؟



ه) پاسخ کامل بده.

۱۷ پیام تصویرهای زیر را بنویس.



۱۸ جدول زیر را کامل کن.

صدای هشدار دهنده	صدای پیام رسان	آلودگی صوتی
.....
.....
.....

۱۹ اگر بجای افراد زیر بودی چگونه به کمک صدا یا نور از دیگران کمک می‌گرفتی؟

- فردی که در بیابان گم شده :


- فردی که در جنگل گم شده :

کلاس:

دستان:

نام و نام خانوادگی:

علوم ۴ (نوبت اول (صفحه ۸۱-۱))




الف) درست یا نادرست را مشخص کن.




- ۱ عطر فروش بیشتر از حس بویایی خود استفاده می کند.
- ۲ آب رودخانه ها بهداشتی و قابل آشامیدن است.
- ۳ از گردش زمین به دور خودش سال به وجود می آید.
- ۴ مایع دما سنج در هوای گرم پایین می آید.

ب) پاسخ درست را علامت بزن.


۵ کدام یک از جانوران زیر در شب فعالیت می کنند؟



۶ در کدام شکل هوا گرم تر است؟



۷ صدای کدام گروه از حیوانات زیر ، کلفت (بم) است؟



۸ جمله ی نادرست را علامت بزن.

- الف) صدا از هوا عبور می کند.
- ب) صدای نازک را بم می گویند.
- ج) صدا بر اثر لرزش اجسام درست می شود.

د) پاسخ کوتاه بده.

۱۳ هم معنی کلمه ی داخل کمانک را بنویس.

من به داشتن کشوری با این همه زیبایی (افتخار می کنم) .

۱۴ به ظرفی که از جنس بلور است چه می گویند؟

۱۵ ادامه ی شعر زیبا را بنویس.

خانه ها را آفتاب «محمود پور وهاب»

۱۶ به جای حرف وسط کلمه ی (کبک) نشانه ی دیگری بگذار که معنادار باشد.

ه) پاسخ کامل بده.

۱۷ چرا شهر محل زندگی خود را دوست داری؟

۱۸ فرق سفر تفریحی و زیارتی را با یک مثال بنویس.

سفر تفریحی :

سفر زیارتی :

۱۹ کلمه ای با دو معنی متفاوت انتخاب کن: سپس در دو جمله بکار ببر.


آفتاب میهن وسط شانه

کلاس:

دبستان:

نام و نام خانوادگی:

فارسی (صفحه ۱۱۴-۱۰۸)



الف) درست یا نادرست را مشخص کن.

- ۱ پدرم قدم زنان به تماشای جنگل رفت.
- ۲ صدای پچ پچ باد به گوش می‌رسید.
- ۳ تابستان فصل گرما و شنا کردن است.
- ۴ خرداد یکی از ماه‌های فصل تابستان است.

ب) پاسخ درست را علامت بزن.

۵ من مثل دانشمندان به طبیعت زیبا نگاه می‌کردم.

الف) به زیبایی ب) با سرعت ج) با دقت

۶ هم معنی کلمات (صبر - آسیب - اطراف) به ترتیب چیست؟

الف) بردباری - فایده - خیلی نزدیک ب) تحمل - ضرر - دوروبر ج) شکیبایی - زیان - دور

۷ در کدام فصل، طبیعت را با رنگ‌های مختلف می‌بینیم؟

الف) بهار ب) تابستان ج) پاییز

۸ با نشانه‌های (ل - ت - ع - ط - ی) چه کلمه‌ای ساخته می‌شود؟

الف) تعطیل ب) تعطیلات ج) تعطیلی

ج) جاهای خالی را کامل کن.

۹ هوای فصل پاییز است. (بسیار سرد - بسیار گرم - معتدل)

۱۰ ۱۵ اسفند ماه روز است. (طبیعت - درخت‌کاری)

۱۱ صدای قطره‌های آب است. (قطره قطره - چک چک - شرشر)

۱۲ ای پروردگار عزیز، تو به همه ی موجودات رسیده است.

کلاس:


دبستان:

نام و نام خانوادگی:

ریاضی

نوبت دوم

ریاضی






الف) درست یا نادرست را مشخص کن.

- ۱ در شمارش دو تا دو تا عدد قبل از ۱۲ می شود ۸
- ۲ با دو رقم (۹ و ۶) شش عدد دو رقمی می توان ساخت.
- ۳ تقریب حاصل جمع (۱۲ + ۷۸) می شود ۹۰
- ۴ اگر از ساعت ۵ : ۸ دقیقه، ۷ دقیقه به جلو حرکت کنیم ساعت ۱۰ : ۸ می شود.

ب) پاسخ درست را علامت بزن.



- ۵ ساعت روبرو چه زمانی را نشان می دهد؟
 الف) یک ربع مانده به ۶ ب) یک ربع مانده به ۵ ج) یک ربع مانده به ۴
- ۶ کدام شکل خط تقارن دارد؟
 الف)  ب)  ج) 

۷ ۱۰ سکه ی ده ریالی و ۵ سکه ی یک ریالی می شود؟

- الف) ۱۰۵ ریال ب) ۱۵۰ ریال ج) ۱۱۵ ریال
- ۸ حاصل تفریق $100 - 70 = \dots$ چه عددی می شود؟
 الف) ۴۰ ب) ۳۰ ج) ۶۰

۵۷

ج) جاهای خالی را کامل کن.

- ۹ گسترده ی عدد $708 = \dots + \dots + \dots$ است.
- ۱۰ اندازه ی طول (درازا) یک جعبه دستمال کاغذی ۹۲ میلی متر است.
 یعنی \dots سانتی متر و \dots میلی متر است.
- ۱۱ برای اندازه گیری دقیق تر، هر سانتی متر به \dots قسمت مساوی تقسیم می شود که به هر قسمت کوچک آن \dots می گویند.
- ۱۲ حاصل جمع $250 + 500 = \dots$ است.

ج) جاهای خالی را کامل کن.

- ۹) خیار و توت دانه‌ی دارند.
- ۱۰) وقتی دانه را خیس کنیم بعد از چند روز از آن بیرون می‌زند. (اندوخته - گیاهک - پوسته)
- ۱۱) لانه‌ی خرگوش و موش کور در قرار دارد. (بالای کوه - زیر زمین)
- ۱۲) قورباغه در مرحله‌ی دوم زندگی خود است. (گیاهخوار - گوشتخوار)


پاسخ کوتاه بده.

- ۱۳) دو ماده‌ی غذایی که برای رشد استخوان‌ها و دندان‌ها مفید است چیست؟
- ۱۴) رشد کدام قسمت بدن تا آخر عمر ادامه دارد؟
- ۱۵) چه چیزی باعث ذوب شدن کره می‌شود؟
- ۱۶) تصاویر زیر جامد است یا مایع؟ بنویس.



ه) پاسخ کامل بده.

- ۱۷) تصویرهای روبرو چه پیامی به شما می‌دهد؟



- ۱۸) یک نوع نان سنتی و یک نوع نان فانتزی را نقاشی کن.

نام نان سنتی:

نام نان فانتزی:

